

# 104 年國中教育會考社會科最易 10 題

(C) 12. 表(一)是大榮家一年來理財投資結果的分析表。根據表中內容判斷，大榮家所選擇的各項投資工具中，何者的投資報酬率最高？

- (A) 股票
- (B) 債券
- (C) 基金
- (D) 存款

表(一)

投資工具	投入金額 (萬元)	獲利金額 (萬元)
股票	50	1
債券	100	2
基金	20	1
存款	25	0.5

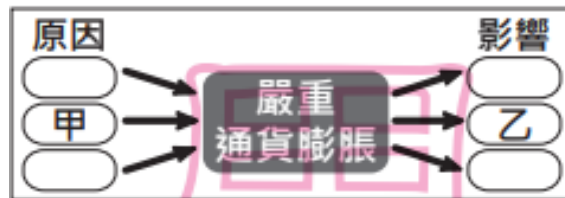
閱讀下列選文，回答第 61 題：

1960 年代是一個社會內部衝突與對抗的年代。在此期間，美國種族衝突日益激烈，為了對抗種族隔離措施，黑人民權運動在各地展開，促使國會通過法案，確保少數族裔獲得在法律及政治上的平地位；中國則因領導階層的權力爭奪，鼓動青年學生，在「革命無罪、造反有理」的口號下，展開一連串的破壞行動；捷克領導人提倡改革，放寬經濟與政治的管制，受到廣大民眾的支持，但「老大哥」嚴厲禁止其改革，領導華沙公約組織出兵捷克，加以鎮壓。

(C) 61. 上文中美國國會通過的「法案」，最可能呈現下列哪一概念？

- (A) 地方自治的展現
- (B) 民意機關的建立
- (C) 基本人權的保障
- (D) 分權制衡的設計

(B) 47. 公民老師為介紹歷史上某一重要事件所使用的簡圖，如圖(二十二)，其中甲、乙最可能為下列何者？

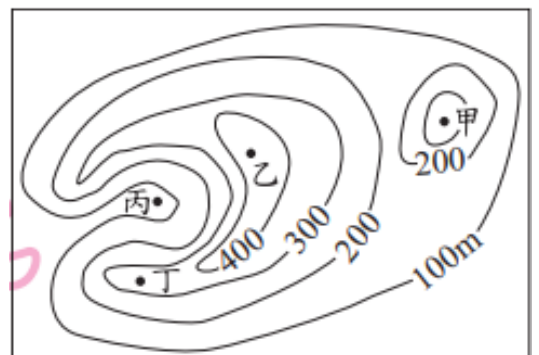


圖(二十二)

- (A) 甲：政府持續大量發行貨幣，乙：人民生活水準上升
- (B) 甲：政府持續大量發行貨幣，乙：人民生活水準下降
- (C) 甲：政府減少貨幣流通數量，乙：人民生活水準上升
- (D) 甲：政府減少貨幣流通數量，乙：人民生活水準下降

(B) 31. 在古代，由於沒有電話和無線電等通訊設備，烽火臺成為傳遞軍情的最好設施之一，傳遞的方法是白天燃煙，夜間舉火。為使軍情能快速傳遞，烽火臺通常設置在視野極佳的位置。圖(十五)中甲、乙、丙、丁哪一地點最適合設置烽火臺？

- (A) 甲
- (B) 乙
- (C) 丙
- (D) 丁



圖(十五)

(B) 15. 右列是小諭舉例說明某一概念的部分內容，根據內容判斷，這應是在探討《憲法》中的哪一項人民基本權利？

- (A) 平等權
- (B) 自由權
- (C) 受益權
- (D) 參政權

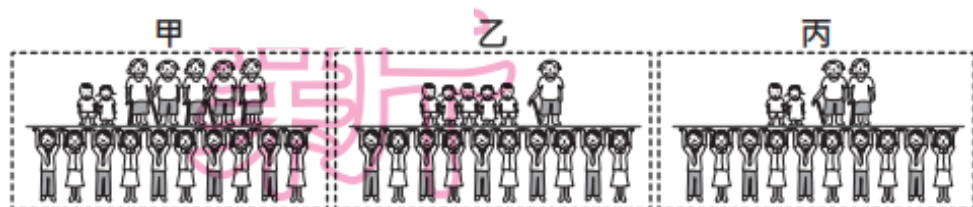
- 皮皮辦理簽證，利用假期到國外旅遊。
- 毛毛關心政治，經常在報紙上投稿發表對政治議題的看法。

(B) 11. 公民老師在課堂上說明關於「價值觀念變遷」的主題，並請四位同學舉出適當的例子加以說明。下列哪一位同學舉出的例子，最符合上述主題？

- (A) 阿智：網際網路科技發達
- (B) 小強：性別平等意識抬頭
- (C) 美美：立法委員席次調整
- (D) 小明：大眾捷運系統普及

(D) 1. 圖(一)為臺灣1980年、2010年及推估2040年的扶養比示意圖，依據年代先後順序排列應為下列何者？

- (A) 甲乙丙
- (B) 甲丙乙
- (C) 乙甲丙
- (D) 乙丙甲



圖(一)

(D) 6. 圖(四)為某雜誌上刊載的紀念戳章及其簡介，根據內容判斷，此紀念章最可能是描繪下列何時臺灣的景象？

- (A) 荷蘭統治時期
- (B) 清朝統治前期
- (C) 清朝統治後期
- (D) 日本統治時期



圖(四)

(B) 46. 新聞報導：「少子化問題日益嚴重，我國的自然增加率恐將成為負值，政府已把此問題視為危及國家安全的國安議題，交由各部會擬定妥善的因應政策。」上述內容最可能是在關切下列哪一項國家組成要素的變化？

- (A) 主權
- (B) 人民
- (C) 政府
- (D) 領土

(C) 45. 從十六世紀哥白尼的「地球繞日說」，到十七世紀伽利略主張「太陽中心說」、牛頓發表「萬有引力定律」，這些學說的提出，在歷史上最可能具有下列何種意義？ (A)

- (A) 嘗試改變生產方式，使用機器取代人力
- (B) 宣揚社會福利概念，解決貧富差距問題
- (C) 試圖用理性態度，了解宇宙的自然法則
- (D) 強調個性解放，重視人類的情感與直覺