

106 年國中教育會考社會科最難 10 題

(D) 46. 采晴計畫與家人一同出國旅遊，上網蒐集該地的氣候資料，如表(十一)所示。根據表中資料，采晴最可能在當地看到下列何種景觀？ 表(十一)

- (A)一望無際的葡萄園、橄欖園
- (B)仙人掌散布在連綿的沙漠中
- (C)高低成層、樹冠茂密的雨林
- (D)稀疏的樹木點綴於高草原上


| 項目 \ 月分 | 1月 | 7月 | 全年 |
|----------|-------|------|--------|
| 平均氣溫(°C) | 26.9 | 22.6 | 25.4 |
| 降水量(mm) | 306.3 | 4.7 | 1032.6 |

(C) 47. 交通部 觀光局邀請日本知名藝人為臺灣拍攝觀光宣傳影片，以吸引日本人來臺旅遊，但在宣傳活動的某段期間，因匯率劇烈波動，反而導致當時日本人來臺旅遊人次呈現負成長。上述觀光局作法所希望影響的消費行為因素，與該段期間匯率變化的情況，最可能為下列何項組合？

- (A)預期心理、新臺幣相對日幣升值
- (B)預期心理、新臺幣相對日幣貶值
- (C)個人偏好、新臺幣相對日幣升值
- (D)個人偏好、新臺幣相對日幣貶值

(D) 39. 圖(十六)是一幅宣傳海報，此宣傳海報最早可能在下列何時何地傳布？

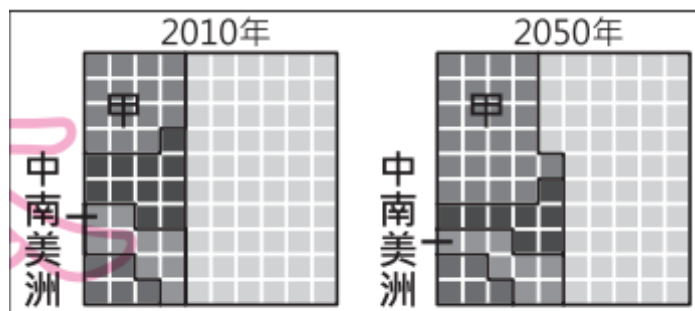
- (A)1919-1930 年的臺北
- (B)1949-1960 年的臺北
- (C)1916-1928 年的瀋陽
- (D)1932-1945 年的瀋陽



圖(十六)

(B) 45. 圖(十七)為 2010 年及聯合國預測 2050 年時，亞洲、非洲、歐洲、北美洲、中南美洲各洲的人口占世界總人口的比例分布狀況。圖中五個區塊分別代表各洲，甲區塊應是指下列何者？

- (A)亞洲
- (B)非洲
- (C)歐洲
- (D)北美洲



圖(十七)

- (A) 40. 小杜向朋友借一部影集回家觀賞，影集內容與一件刑事案件有關，但因包裝盒破損，僅剩部分劇情說明可辨識，如表(七)所示。根據我國現行法律判斷，若將四張光碟片按照案件處理的先後次序排列，則其順序應為下列何者？

表(七)

| 光碟 | 劇情說明 |
|----|----------------------------|
| 甲 | ……只剩這個機會，法院能否推翻先前判決還他清白……。 |
| 乙 | ……歷經多次開庭，地方法院的法官即將作出判決……。 |
| 丙 | ……他因涉嫌殺人被提起公訴，該如何面對接下來……。 |
| 丁 | ……雖然已決定上訴，但對於未來的結果並沒有把握……。 |

- (A) 丙、乙、丁、甲
 (B) 丁、丙、乙、甲
 (C) 丙、丁、乙、甲
 (D) 乙、丙、甲、丁

- (A) 53. 西元前四世紀，亞歷山大創立跨歐、亞、非的國，並在其征服的疆域內興建城市。圖(二十)中的甲、乙、丙、丁，何者最可能是他所興建城市？



帝(二)的

- (A) 甲
 (B) 乙
 (C) 丙
 (D) 丁

圖(二十二)

閱讀下列選文，回答第 56 題：

畢道文的家鄉自十七世紀以來長期受荷蘭殖民，從醫科學校畢業後，他即前往荷蘭深造，並積極參與反荷蘭統治、支持家鄉獨立的政治運動。

第一次世界大戰後，西班牙的社會主義者掌控了政府。1936年，主張反共的西班牙法西斯黨人發動奪權，企圖推翻政府，並得到二個同樣反共的極權統治國家的軍事援助；畢道文和許多國際志願軍因同情西班牙政府，則加入了反法西斯陣營，投身於西班牙內戰，擔任國際志願軍的隨隊醫生貢獻心力。

之後，畢道文轉往中國，參與對日作戰。第二次世界大戰結束後，他繼續留在中國，參與聯合國善後救濟總署，協助中國重建。畢道文一生獻身於革命，以超越種族與國籍的行動，追求個人崇高的理想。

- (C) 56. 畢道文的家鄉最可能位於圖(二十三)中甲、乙、丙、丁何處？



- (A) 甲
 (B) 乙
 (C) 丙
 (D) 丁

表(十)

| 事件類別 | 件數(件) |
|---------------|-------|
| 民事事件 | 35 |
| 告訴乃論 刑事案件 | 40 |
| 非告訴乃論 刑事案件 | 25 |

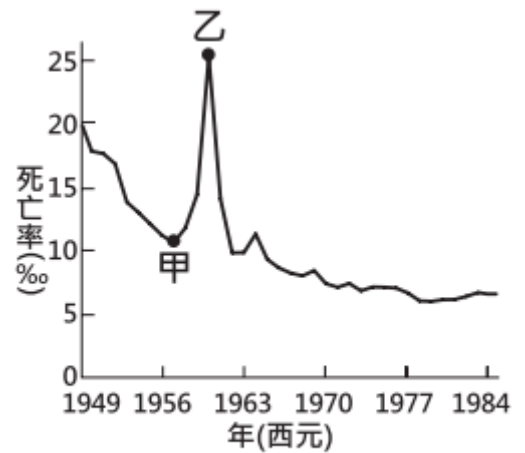
- (D) 44. 小霏蒐集了許多社會紛爭事件的資料，將其分類後，結果如表(十)所示。根據表中資訊判斷，下列說明何

者正確？

- (A)檢察官應主動進行偵查的件數共 40 件
- (B)可經由和解方式直接解決的件數共 35 件
- (C)應由普通法院進行訴訟審理的件數共 65 件
- (D)當事人可聲請調解委員會調解的件數共 75 件

(B) 52. 圖(二十一)是參考某段期間中國人口死亡率估算值而繪製的曲線圖，圖中甲、乙二點之間死亡率的變化，最可能與下列何者有關？

- (A)人民響應抗美援朝，參與韓戰而造成傷亡慘重
- (B)大躍進運動期間，政策失當所導致的嚴重饑荒
- (C)文化大革命時，紅衛兵鬥爭造成眾多人口死亡
- (D)六四天安門事件爆發，政府鎮壓大量抗議群眾



圖(二十一)

(C) 55. 這個國家仿效羅馬帝國擴張的模式，在各個征服地區建立城市，作為行政、軍事和經濟中心：部分征服地區是以既存的城市為基礎，如墨西哥城；多數征服地區則是建立新的城市，城內有著規則的街道網絡，如位於加勒比海的聖雅各騎士城(今多明尼加共和國境內)，及中美洲的瓜地馬拉城等。這個國家最可能是下列何者？

- (A)十世紀的神聖羅馬帝國
- (B)十三世紀的印加帝國
- (C)十六世紀的西班牙
- (D)十九世紀的美國