

# 107 年國中教育會考社會科最難 10 題

(C) 39. 表(五)是某時期官方所播放的時事宣傳影片，根據內容判斷，這些影片最可能在下列何時何地播放？

- (A) 第一次世界大戰期間的北京
- (B) 第一次世界大戰期間的東京
- (C) 第二次世界大戰期間的臺北
- (D) 第二次世界大戰期間的重慶

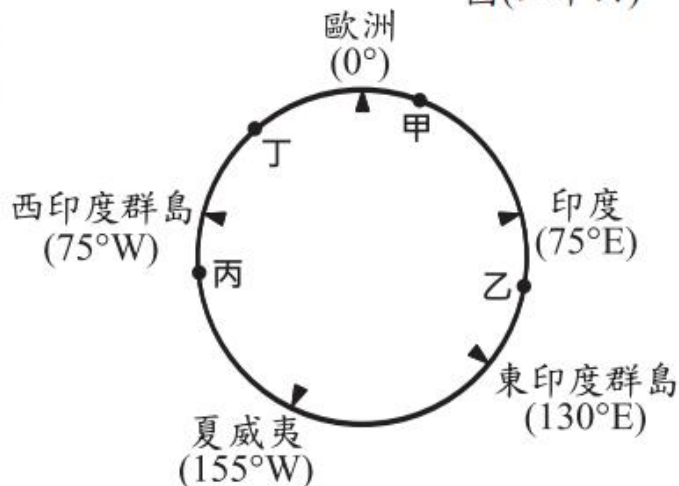
表(五)

影片名稱
德國空軍與英國艦隊壯烈的交戰
日德義同盟
納粹德國國防軍的活躍
慶祝滿洲建國十週年
夏威夷大空襲

(A) 56. 十五世紀開始，許多歐洲探險家出海探尋通往亞洲的新航路。圖(二十五)是十五世紀至十八世紀部分歐洲探險家到達地區的示意圖，其標示方式僅依照這些地區的經度位置排列，而未考慮其緯度位置。狄亞士在1487至1488年的探險旅程中到達某洲的最南端，若要在圖中呈現，應標示於何處？

- (A) 甲
- (B) 乙
- (C) 丙
- (D) 丁

圖(二十四)



圖(二十五)

(C) 44. 小文想在甲、乙、丙三景點中選擇一處販售冷飲，他的評估結果如表(六)所示。若小文僅考量總利潤，根據表中內容判斷，他選擇這三處景點的機會成本，其排序應為下列何者？

- (A) 丙 > 甲 > 乙
- (B) 乙 > 甲 > 丙
- (C) 甲 = 乙 > 丙
- (D) 丙 > 甲 = 乙

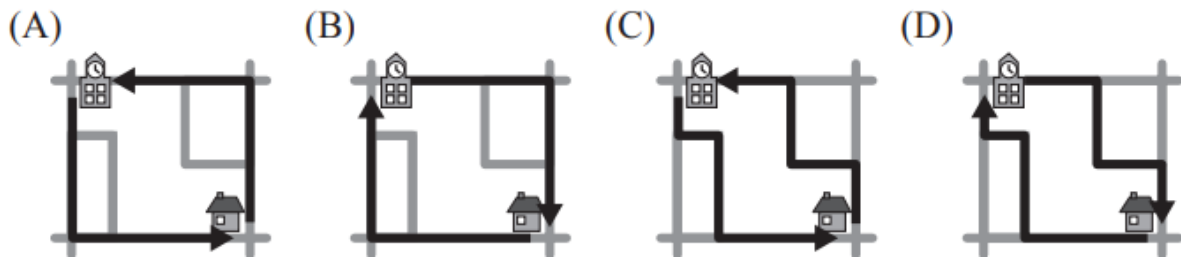
表(六)

景點	一日販售數量(杯)	每杯售價(元)	營業日數(天)	一日營業成本(元)
甲	110	50	2	1000
乙	90	30	4	600
丙	100	40	3	800

- (C) 41. 阿倫上學途中，路過某候選人的競選總部，看到了「28歲新人，開創地方行政新氣象」的標語；放學回家，又經過另一位候選人的競選總部，懸掛著「評鑑第一名的民意代表，懇請支持連任」的布條。圖(十二)是阿倫家周邊環境示意圖，根據圖中內容判斷，下列何者最可能是阿倫上學、放學的路線？



圖(十二)



- (D) 18. 有一專門收錄世界各地大自然聲音的網站，只要點選地圖上的標記，就可以聽到當地各種自然界的聲音。當點選圖(八)中的甲標記時，最可能聽到下列何種聲音？

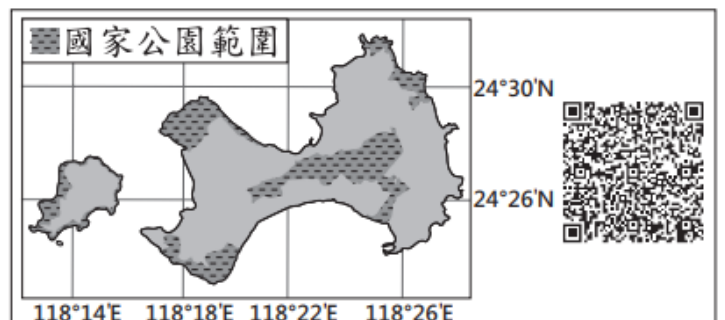


圖(八)

- (A) 熱帶雨林中青蛙的鳴叫聲  
 (B) 廣闊莽原上獅子的怒吼聲  
 (C) 海上浮冰撞擊和摩擦的聲音  
 (D) 沙漠中強風吹起沙塵的聲音

- (D) 35. QR Code是目前常見的一種二維條碼。利用手機對準QR Code拍照，再搭配解碼軟體，就可以顯示條碼內儲存的訊息。圖(十一)是針對臺灣某國家公園特色所設計的QR Code，將其解碼後，得到的訊息最可能包括下列何者？

- (A) 雄偉壯麗的峽谷景觀  
 (B) 珊瑚礁堆砌的防風牆  
 (C) 火山活動形成的噴氣孔  
 (D) 傳統的閩南式建築聚落



圖(十一)

- (C) 37. 以下是中國某朝代對外關係的介紹：「此王朝中期以後，先前曾遠達非洲東岸的官方遠洋航行，早已因無法負荷龐大的支出而終止；東部沿海地區遭海盜劫掠，朝廷往往束手無策。幾任皇帝雖修整傾頹的長城，依然抵擋不住北方蒙古族的侵擾。」該朝代最可能是下列何者？
- (A)南宋 (B)元代  
(C)明代 (D)清代

- (A) 55. 現行中華民國身分證統一編號的首碼為大寫的英文字母，代表初次登記時的戶籍地。2010年行政區合併改制後，部分縣的代碼因而停止發行。圖(二十四)是行政區合併前的地圖與部分縣的英文代碼，下列哪一英文代碼還有可能出現在2018年新生兒的身分證統一編號中？



圖(二十四)

- (A) J (B) L  
(C) R (D) S

- (B) 42. 《道路交通管理處罰條例》已依法修正通過，其中新增了舉發期限規定，即民眾檢舉違規行為，自違規日起算不得超過七天，否則不受理舉發。根據上述內容判斷，下列敘述何者正確？
- (A)通過文中規定的機關亦可統一解釋法律  
(B)修正內容通過後依法應由總統公布施行  
(C)民眾可直接向地方法院舉發上述違規行為  
(D)上述修正內容施行後將減少政府租稅收入

- (C) 54. 十六世紀時，這個國家積極向外征服，在其殖民地修築了許多城堡，如圖(二十二)所示。當時這個國家也曾在圖(二十三)中甲、乙、丙、丁何處建立城堡？



圖(二十二)



圖(二十三)

- (A)甲  
(B)乙  
(C)丙  
(D)丁