

107 年國中教育會考社會科最易 10 題

(C) 8. 圖(五)是呈現某古代文明政治運作特色的示意圖，此古文明最可能是下列何者？

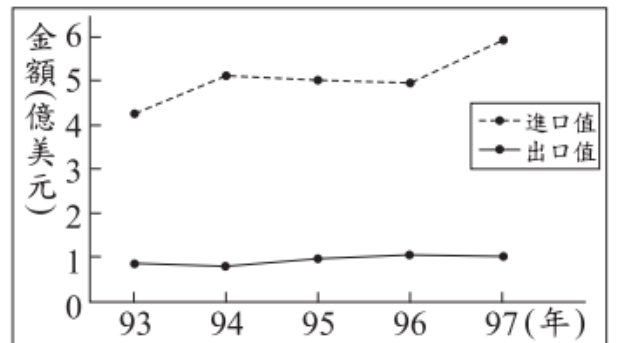
- (A)蘇美
- (B)埃及
- (C)雅典
- (D)波斯



圖(五)

(C) 46. 圖(十五)是民國93年至97年，我國水果類農產品的國際貿易概況。根據圖中內容，可觀察出下列何種現象？

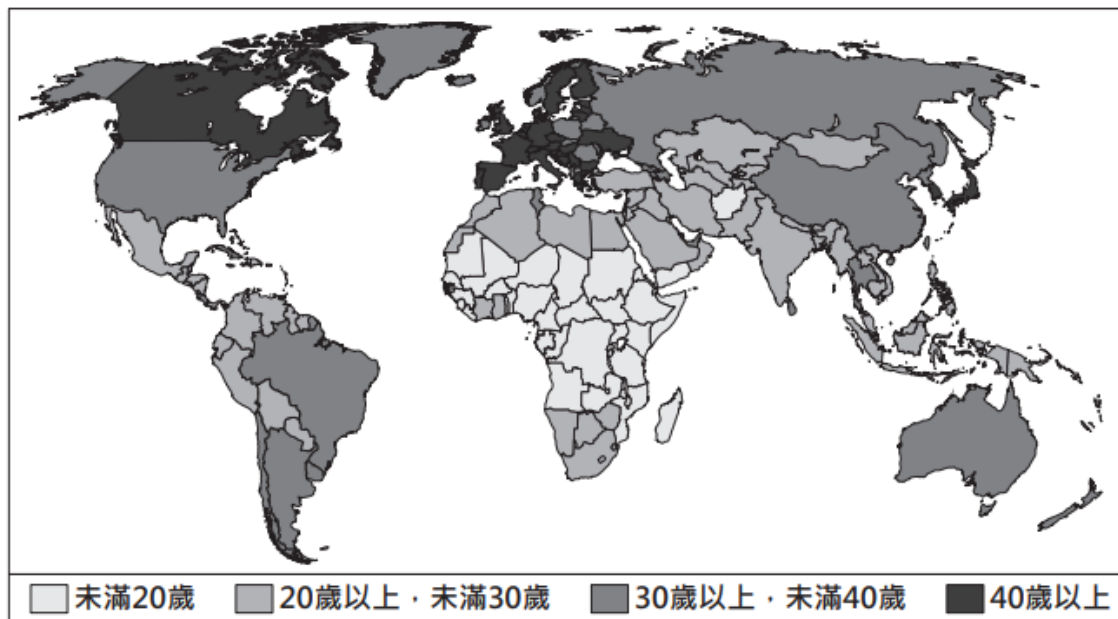
- (A)我國生產水果具絕對利益
- (B)我國生產水果具比較利益
- (C)水果類貿易呈現入超狀態
- (D)水果類貿易呈現出超狀態



圖(十五)

閱讀下列選文，回答第 62 至 63 題：

圖(二十七)是2014年世界各國人口年齡中位數分布圖。「人口年齡中位數」是將一個國家的總人口分成人數相等的兩部分，其中一半人的年齡比中位數要小，而另一半人的年齡比中位數要大，該數值可描述一國人口年齡的狀態。



圖(二十七)

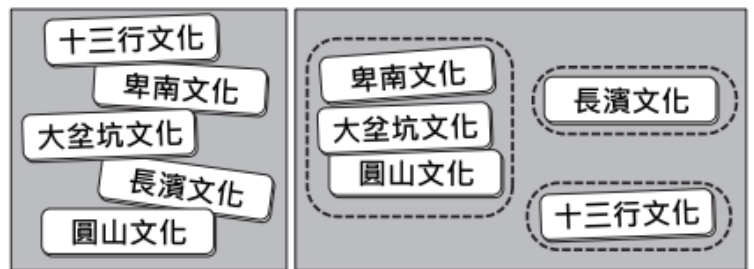
- (C) 62. 圖(二十七)中「人口年齡中位數」未滿20歲的國家，主要分布在哪一洲？
 (A)亞洲
 (B)歐洲
 (C)非洲
 (D)南美洲
- (A) 63. 圖(二十七)中「人口年齡中位數」屬於■類的國家，最可能具有下列何種特徵？
 (A)出生率較低
 (B)平均壽命較低
 (C)醫療衛生水準較落後
 (D)人口組成為低金字塔型

閱讀下列選文，回答第 57 至 59 題：

位於塞爾維亞及阿爾巴尼亞之間的科索沃，今日仍是宗教、種族複雜之地，在十五世紀後期被「帝國」占領後，改信伊斯蘭教的阿爾巴尼亞人陸續遷入，與當地信奉不同宗教的各族群和平共處。但十九世紀以來，科索沃民族主義高漲，因種族、土地等問題，屢屢出現紛爭。1990年代後期，塞爾維亞政府在當地對阿爾巴尼亞人進行種族屠殺，導致許多難民逃離科索沃，棲身於鄰國的難民營。當時，為了讓難民能擁有歡笑時光，馬戲團小丑所組織的「無國界小丑」，義務到這些難民營製造歡樂，他們跨越語言藩籬，將歡笑帶至難民營。

- (A) 59. 文中「無國界小丑」的作為最符合下列何項意涵？
 (A)實踐公益服務 (B)提升社會福利
 (C)促進區域統合 (D)落實經濟互惠


- (A) 6. 鈞憶將圖(二)中的五張卡片分為圖(三)中的三類，其分類的依據最可能是下列何者？
 (A)製作器物的技術
 (B)文字發展的程度
 (C)居住區域的位置
 (D)使用貨幣的類型



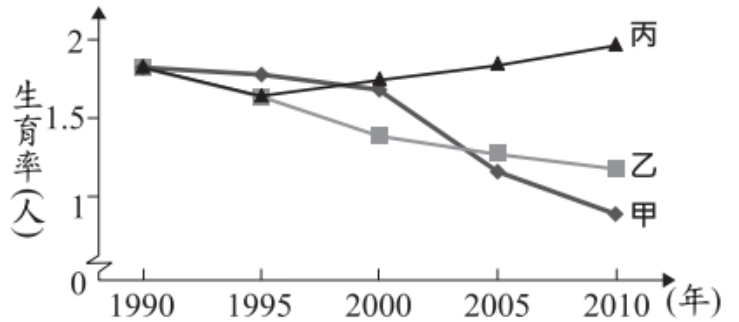
圖(二)

圖(三)

- (D) 2. 為保護臺灣的海岸環境，《海岸管理法》於2015年公布施行，其中濱海陸地的劃設是以最接近海岸線的山脊線為主，如果山脊線距離海岸線超過3公里，則以最接近海岸線的省道、濱海道路或行政區界等劃設。下列哪一行政區的濱海陸地最可能大多依據山脊線劃設？
 (A)桃園市 (B)彰化縣
 (C)高雄市 (D)臺東縣

 山脊線：山脊的連線。

- (A) 47. 圖(十六)是甲、乙、丙三個國家關於人口的部分資料。圖中內容顯示，丙國數值與甲、乙二國的差距隨時間逐漸擴大，關於丙國的此種現象，下列何項政策的影響程度最高？



圖(十六)

- (A)提供幼兒生活補助津貼
(B)修改法規延後退休年齡
(C)推動長期老人安養服務
(D)夫妻協商決定子女姓氏

- (D) 12. 下列是三位行政首長的發言內容：

甲縣縣長：「感謝縣議會的支持，本縣領先全國引進熱氣球活動，創造商機。」

乙市市長：「因應颱風來襲，為維護市民財產安全，本市今晚開放市區紅線停車。」

丙縣縣長：「未來是否在本縣設置觀光賭場，我們將交由縣民以公投方式決定。」

上述三位首長的發言內容，最足以彰顯下列何項概念？

- (A)中央集權 (B)責任政治
(C)三權分立 (D)地方自治

- (B) 11. 曾被飼養的流浪動物對人類較無戒心，但此特點卻被某些人利用，他們不但虐待流浪貓、狗，還將過程拍成影片上傳到網路平臺供人觀賞。雖然違法者多已受到法律制裁，但憾事卻難以挽回。上述案例凸顯下列何者的重要性？

- (A)辨識媒體傳播資訊的真偽 (B)生命無貴賤之分皆應被尊重
(C)資訊流通應避免侵害他人隱私 (D)重視環境保護以維護生物多樣性